

Subject: General Knowledge

Grade III

Total Marks: 20

پہلا ہفتہ

December 14 to 19

دیے گئے سوالات کو حل کرنے کے لئے یونٹ 1 باب 1، 2، 3 اور 4 صفحے نمبر 2 سے 11 تک پڑھیں۔




1. The solar energy is received from		شمسی توانائی حاصل ہوتی ہے
sun.	(A)	سورج سے۔
moon.	(B)	چاند سے۔
stars.	(C)	ستاروں سے۔

2. Identify the freshwater habitat from the following.		دیے گئے میں سے تازہ پانی کے مسکن کی نشاندہی کریں
desert	(A)	صحرا
forest	(B)	جنگل
lake	(C)	جھیل

3. Using a line, (——) match the animals with their habitat.

کیر (——) کی مدد سے دیئے گئے جانورں کو ان کے مسکن سے ملائیں۔

(Marks 03)

Animals جانور




Habitat مسکن
Lake جھیل
Desert صحرا
Forest جنگل

دوسرا ہفتہ

December 21 to 26

Read Unit 1 Chapter 6, 7 and 8. Page No. 15 to 30 before answering the question.

دیے گئے سوالات کو حل کرنے کے لئے یونٹ 1 باب 6، 7 اور 8 صفحے نمبر 15 سے 30 تک پڑھیں۔

4. In world, the polar regions are the		دنیا میں قطبی خطے ہیں
hottest regions.	(A)	گرم ترین خطے۔
coldest regions.	(B)	سرد ترین خطے۔
warmest regions.	(C)	سب سے گرم خطے۔

5. The penguins have adopted to the water habitat. Their flappers are actually		پینگوئن نے پانی کے مسکن کو اپنایا ہے۔ اُنکے فلیپر زدر حقیقت ہوتے ہیں
wings.	(A)	پر۔
fins.	(B)	گلچھڑے۔
legs.	(C)	ٹانگیں۔

6. Write any three human activities that affect water habitat.

تین ایسی انسانی سرگرمیاں تحریر کریں جو آبی مسکن کو نقصان پہنچاتی ہیں۔

(Marks 03)

تیسرا ہفتہ

December 28 to 31

Read Unit 2 Chapter 1, 2, 3 and 4. Page No. 31 to 42 before answering the question.

دیے گئے سوالات کو حل کرنے کے لئے یونٹ 2 باب 1، 2، 3 اور 4 صفحہ نمبر 31 سے 42 تک پڑھیں۔




7. The babies of living thing that does not look like its parent is		وہ جاندار جن کے بچے اپنے والدین کی شکل کے نہیں ہوتے وہ ہے
cat.	(A)	بلی۔
rose.	(B)	گلاب۔
butterfly.	(C)	تتلی۔

8. When the egg of a butterfly hatches, it gives birth to		جب تتلی کے انڈے تیار ہو جاتے ہیں تو پیدا ہوتے ہیں
larvae.	(A)	لاروا
tadpole.	(B)	ٹیڈپول
caterpillar.	(C)	کیٹرپلر

9. With the help of a line, (____) match the babies with their parents.

کیر (____) کی مدد سے دیے گئے جانوروں کے بچوں کو ان کے والدین سے ملائیں۔

(Marks 03)

Babies بچے




Parents والدین




چوتھا ہفتہ

January 4 to 8

Read Unit 3 Chapter 1, and 2. Page No. 43 to 53 before answering the question.

دیے گئے سوالات کو حل کرنے کے لئے یونٹ 3 باب 1 اور 2 صفحے نمبر 43 سے 53 تک پڑھیں۔

10. We can keep ourselves clean if we regularly		ہم اپنے آپ کو صاف رکھ سکتے ہیں اگر باقاعدگی سے
play game.	(A)	کھیل کھلیں۔
watch TV.	(B)	ٹی وی دیکھیں۔
wash hands.	(C)	ہاتھ دھوئیں۔

11. We gain proteins from		پروٹین حاصل ہوتا ہے
wheat.	(A)	گندم سے۔
butter.	(B)	مکھن سے۔
eggs.	(C)	انڈوں سے۔

12. With the help of a line, (____) match the food groups with the building blocks of life.

لکیر (____) کی مدد سے دیے گئے غذائی گروہوں کو زندگی کے اہم افعال سے ملائیں۔

(Marks 03)

Food group غذائی گروہ
Proteins پروٹین
Carbohydrate کاربوہائیڈریٹ
Fat چکنائی

Effects اثرات
Stores energy توانائی کا ذخیرہ کرتا ہے
Helps growth نشوونما میں مدد کرتا ہے
Gives energy توانائی فراہم کرتا ہے